


Hvilke geometriske figurer kan du finde på kirkegården



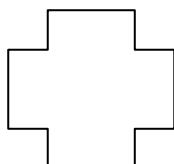
Omkreds: _____




Omkreds: _____



Omkreds: _____



Omkreds: _____



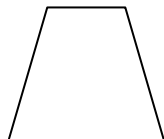
Omkreds: _____



Omkreds: _____



Omkreds: _____



Omkreds: _____

Tegn selv nogle figurer du syntes mangler:

Omkreds: _____

Omkreds: _____